

UZUPEŁNIA ZESPÓŁ NADZORUJĄCY

KOD UCZNIĄ

--	--	--

DATA URODZENIA UCZNIĄ

--	--	--	--	--	--	--	--

dzień miesiąc rok

miejsce
na naklejkę
z kodem

SPRAWDZIAN W SZÓSTEJ KLASIE SZKOŁY PODSTAWOWEJ

„Herbata”

Informacje dla ucznia

1. Sprawdź, czy zestaw egzaminacyjny zawiera 9 stron. Ewentualny brak zgłoś nauczycielowi.
2. Sprawdźnian składa się z 24 zadań.
3. Czytaj uważnie wszystkie zadania.
4. Do niektórych zadań podane są odpowiedzi:
 A. B. C.
lub
 TAK NIE

Tylko jedna z nich jest prawidłowa. Wybierz ją i wpisz znak X w okienko , na przykład: .

5. Gdy się pomylisz, otocz błąd kółkiem w taki sposób: i zaznacz prawidłową odpowiedź: .
6. Pozostałe zadania wykonaj bezpośrednio pod poleceniami. Pomyłki przekreślaj.
7. Jeśli nie potrafisz rozwiązać któregoś zadania, przejdź do następnego. Do opuszczonego wrócisz, jeśli będziesz mieć czas.
8. Na ostatniej stronie znajduje się brudnopis, z którego możesz skorzystać. To, co w nim napiszesz, nie będzie sprawdzane.

Powodzenia!

**Czas pracy:
60 minut**

(można przedłużyć –
nie więcej niż o 30 minut)

**Liczba punktów
do uzyskania: 40**

S-A8

Przeczytaj tekst i rozwiąż zadania: 1., 2. i 3.

Herbata

Do Europy herbata została przywieziona w roku 1610 przez holenderskich kupców. Herbatę zaczęto stosować jako środek leczniczy i podawać zamiast lekarstw przy różnych chorobach.

Na podstawie: Janina Malendowicz, *Pisanie z pamięci i ze słuchu w szkole podstawowej. Uwagi metodyczne i zbiór tekstów*, Warszawa 1961.

Zadanie 1.

Zaznacz TAK, jeśli zdanie jest prawdziwe, NIE, jeśli zdanie jest fałszywe.

Tekst napisano prozą. TAK NIE

Tytuł tekstu to **Krzew herbaciany**. TAK NIE

Zadanie 2.

Zaznacz prawidłową odpowiedź.

Dawniej herbata stosowana była jako

A. kosmetyk.

B. lekarstwo.

C. trucizna.

Zadanie 3.

Zaznacz prawidłową odpowiedź.

Herbatę przywieźli do Europy kupcy z

A. Portugalii.

B. Hiszpanii.

C. Holandii.

Zadanie 4.

Po raz pierwszy herbatę sprowadzono do Polski w 1680 roku.

Zaznacz prawidłową odpowiedź.

Herbatę sprowadzono w wieku

A. XIV

B. XVI

C. XVII

Zadanie 5.

Zaznacz prawidłową odpowiedź.

Ile lat minęło od 1680 do 2004 roku?

A. 224

B. 324

C. 424

Zadanie 6.
Przeczytaj tekst.

Młode sadzonki herbaty rosną w szkółce herbacianej. Gdy sadzonki herbaty osiągną wysokość 15 – 18 cm, przesadzane są na plantacje.

Na podstawie: www.herbaty.w.interia.pl

Zaznacz prawidłową odpowiedź.
Z tekstu dowiadujemy się o

- A. uprawie herbaty.
- B. parzeniu herbaty.
- C. przechowywaniu herbaty.

Zadanie 7.

Książka przyrodnicza składa się z następujących części:

- I. Świat kosmosu
- II. Świat roślin
- III. Świat zwierząt

Zaznacz prawidłową odpowiedź.

Informacji o krzewie herbacianym należy szukać w części

- A. pierwszej.
- B. drugiej.
- C. trzeciej.

Zadanie 8.

Połącz, według wzoru, cechę herbaty ze zmysłem, którym można ją rozpoznać.

	węch
pachnąca	dotyk
złocista	smak
słodka	słuch
gorąca	wzrok

Zadanie 9.

Herbata, oranżada, sok owocowy lub warzywny to popularne napoje.

Zaznacz prawidłową odpowiedź.

Ze względu na dużą zawartość witamin najzdrowiej jest pić

- A. oranżadę.
- B. sok.
- C. herbatę.

Zadanie 10.

Wpisz właściwe nazwy napojów dobierając wyrazy z ramki.

mleko, sok, herbata, kawa

Z suszonych liści zaparza się _____.

Z owoców lub warzyw wyciska się _____.

Zadanie 11.

Opisz kubek do herbaty, przedstawiony na rysunku.



Skorzystaj z podanych wyrazów: kubek, ucho, spodek, ozdobiony, znajdują się, dzieci, samochody, chmura, słońce, domy, drzewa, kwiaty, liście.

Przeczytaj tekst i rozwiąż zadania: 12. i 13.

Do filiżanki wsypać 1 łyżeczkę liści herbaty i zalać wrzątkiem.
Parzyć od 3 do 5 minut.

Zadanie 12.

Zaznacz prawidłową odpowiedź.

Tekst opisujący sposób parzenia herbaty to

- A. notatka.
- B. przepis.
- C. ogłoszenie.

Zadanie 13.

Zaznacz prawidłową odpowiedź.

Herbatę należy parzyć do

- A. 1 minuty.
- B. 2 minut.
- C. 5 minut.

Zadanie 14.

Zaznacz prawidłową odpowiedź.

Informacje o tym, jak parzyć herbatę znajdziesz w

- A. książce kucharskiej.
- B. atlasie geograficznym.
- C. słowniku ortograficznym.

Zadanie 15.

Zaznacz TAK, jeśli zdanie jest prawdziwe, NIE, jeśli zdanie jest fałszywe.

Czas parzenia herbaty mierzy się termometrem.

- TAK NIE

Papierowe opakowania po herbacie można przeznaczyć na makulaturę.

- TAK NIE

Zapoznaj się z tabelą i rozwiąż zadania: 20. i 21.

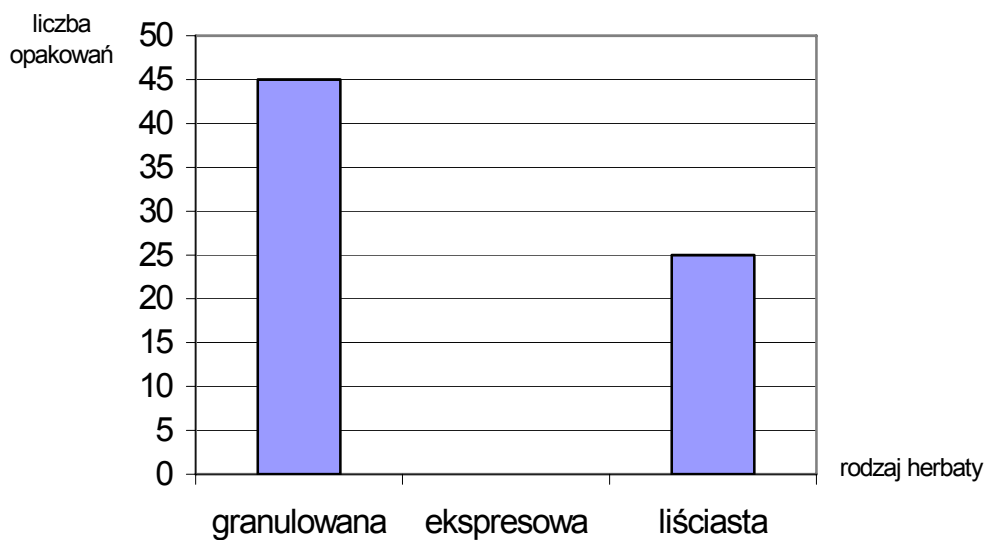
Rodzaje herbat i ich ilości dostępne w sklepie

rodzaj herbaty	liściasta	granulowana	ekspresowa
liczba opakowań	25	45	40

Zadanie 20.
Uzupełnij zdanie.

W sklepie jest _____ opakowań herbaty liściastej.

Zadanie 21
Zaznacz na diagramie słupkowym liczbę opakowań herbaty ekspresowej dostępnej w sklepie.



Zadanie 22.

W sklepie było 25 opakowań herbaty liściastej. Sprzedano 5 opakowań.

Zaznacz właściwą odpowiedź.

Aby obliczyć, ile opakowań herbaty liściastej zostało, należy wykonać działanie

- A. $25 \cdot 5$
- B. $25 - 5$
- C. $25 : 5$


Zadanie 23.


Wieczko pudełka na herbatę ma kształt okrągły.

Zaznacz prawidłową odpowiedź.

Która z narysowanych figur geometrycznych przypomina kształtem wieczko?

A. 

B. 

C. 

Zadanie 24.

Zaznacz prawidłową odpowiedź.

O tym, że w pobliżu można napić się, na przykład herbaty, informuje znak



A.



B.



C.

Brudnopsis

